





Activité: Les os et leurs formes

Consigne :

Tentez d'identifier le type d'os présenté dans chaque image en inscrivant son nom vis-à-vis l'os du corps humain approprié.





Voici votre choix de réponses:

- Os long
- Os court
- Os plat
- Os irrégulier

Os du corps humain	Type d'os
Os du carpe  <small>© Primal Pictures 2009</small>	
Os de la base du crâne (ethmoïde)  <small>© Primal Pictures 2009</small>	
Os du crâne  <small>© Primal Pictures 2009</small>	
Fémur  <small>© Primal Pictures 2009</small>	

Consultez maintenant nos réponses à la page suivante.

Réponses

Os du corps humain	Type d'os
<p>Os du carpe</p>  <p>© Primal Pictures 2009</p>	<p>Os court</p>
<p>Os de la base du crâne (ethmoïde)</p>  <p>© Primal Pictures 2009</p>	<p>Os Irrégulier</p>
<p>Os du crâne</p>  <p>© Primal Pictures 2009</p>	<p>Os plat</p>
<p>Fémur</p>  <p>© Primal Pictures 2009</p>	<p>Os long</p>